




- ▶ Recapitulare
- ▶ Numere naturale 0-10

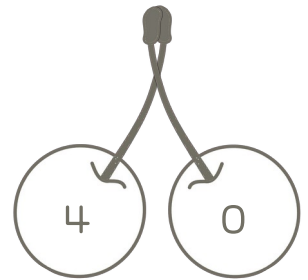





Clasa Pregătitoare

1 Câte elemente sunt în fiecare grup ?



2 Din fiecare pereche, colorați cireșa pe care apare numărul mai mare .



MEM

3 Scrieți vecinii numerelor .

 5  1  7  9  4  8 

30'

4 Fiecărei litere îi corespunde un număr. Scrieți literele în ordinea descrescătoare a numerelor și descoperiți numele unui continent.

O4 U7 A0 E9 P2 R6



5 Colorați cu galben triunghiul, cu roșu pătratul, cu albastru cercul și cu verde dreptunghiul.




6 În fiecare grup au fost scrise numerele de la 0 la 10. Ce numere se ascund în spatele emojiurilor ?

2		4	0
	5		
7		9	1
<input type="text"/>	<input type="text"/>	<input type="text"/>	<input type="text"/>

	9		6
		4	10
8	7	3	
<input type="text"/>	<input type="text"/>	<input type="text"/>	<input type="text"/>

	1	10	
		3	5
	0	6	8
<input type="text"/>	<input type="text"/>	<input type="text"/>	<input type="text"/>

7 Colorați primul măr cu verde, pe al patrulea cu galben și pe ultimul cu roșu.



8 Câte buchete de câte 3 lalele poți forma cu florile de mai jos ?



buchete

Nume

Data

Scanați codul QR pentru a verifica rezultatele

