


Notă

- Testul conține 40 de probleme
- Fiecare problemă poate avea una, două sau trei variante corecte
- O problemă se consideră rezolvată doar dacă toate variantele corecte sunt identificate
- Nivel dificultate **Ușor/Mediu**

VB Learning Hub



Clasa 1

Test recapitulare finală



- Numere naturale în intervalul 0-100
- Adunarea și scăderea în intervalul 0-100
- Noțiuni de geometrie
- Unități de măsură


1 Scris cu cifre, numărul **șaptezeci și trei** este :

- a. 70 b. 37
c. 73 d. 33

2 Numărul reprezentat grafic în imagine este :

- a. 11
b. 62
c. 26
d. 66



3 În șirul **15 20 25**   , numărul acoperit de cerc este :

- a. 30 b. 40
c. 35 d. 50

4 Sunt corecte afirmațiile :

- a. $32 < 23$ b. $81 > 78$
c. $76 > 68$ d. $91 < 19$

5 Sunt numere impare :

- a. 17 b. 38
c. 82 d. 63

6 Fiecărui număr îi corespunde o literă :

R 45 E 76 A 32 T 67 C 28

Aranjăm literele în ordinea crescătoare a numerelor și obținem șirul :

- a. CATER b. CARET
c. ETRAC d. CARTE

7 Vecinii numărului **59** sunt :

- a. 58 și 60 b. 50 și 60
c. 60 și 61 d. 55 și 66

8 **77** rotunjit la ordinul zecilor devine :

- a. 70 b. 75
c. 80 d. 100

9 Cel mai mare număr pe care îl putem rotunji la ordinul zecilor pentru a obține **50** este :

- a. 49 b. 45
c. 48 d. 54

10 Cel mai mic număr impar, format din două cifre diferite, este :

- a. 31 b. 10
c. 13 d. 23

11 Alina a alergat, sâmbătă, 18 km în parc. Duminică, ea a alergat 6 km. Câți km a alergat în cele două zile ?

- a. 14 km
- b. 24 km
- c. 34 km
- d. 12 km



12 Cartea pe care o citește Maria are 72 de pagini. Câte pagini mai are de citit, dacă până acum a citit 17 pagini ?

- a. 89 de pagini
- b. 17 pagini
- c. 55 de pagini
- d. 72 de pagini



13 Scazi 20 din suma numerelor 50 și 40. Ai obținut :

- a. 90
- b. 100
- c. 60
- d. 70

14 Numărul cu 3 mai mic decât suma numerelor 60 și 8 este :

- a. 65
- b. 71
- c. 57
- d. 11

15 Suma numerelor 52 și 5 este :


- a. un număr impar
- b. 57
- c. 47
- d. > 50

16 Scazi 33 din suma numerelor 45 și 54. Ai obținut :

- a. 66
- b. 99
- c. 12
- d. un număr impar

17 Irina are 23 de fructe. Corina are cu 12 mai multe fructe decât Irina. Împreună, cele două fete au :

- a. 35 de fructe
- b. 47 de fructe
- c. 58 de fructe
- d. 66 de fructe



18 Adaugă 23 la suma vecinilor numărului 13. Ai obținut :

- a. 36
- b. 47
- c. 26
- d. 49

19 Din suma numerelor 70 și 20 scazi diferența numerelor 70 și 20. Ai obținut :

- a. 70 b. 20
c. 40 d. 50
-

20 Care dintre afirmații sunt adevărate ?

- a. $12 + 3 = 16$ b. $45 + 4 = 58$
c. $45 > 49 - 5$ d. $90 = 99 - 9$
-

21 Numărul cu 23 mai mic decât 46 este :

- a. 23 b. 69
c. 46 d. 33
-

22 Pisica are 11 kg. Iepurașul este cu 5 kg mai ușor decât pisica. Câțelul este cu 28 de kg mai greu decât iepurașul. Cât cântărește câțelul ?

- a. 16 kg b. 39 kg
c. 34 kg d. 44 kg



23 Alegeți calculele corecte.

- a. $7 + 6 = 13$ b. $16 - 8 = 7$
c. $9 + 5 = 14$ d. $11 - 4 = 8$
-

24 Alegeți calculele corecte.

- a. $73 + 8 = 80$ b. $35 + 7 = 42$
c. $66 + 7 = 73$ d. $54 + 9 = 61$
-

25 Alegeți calculele corecte.

- a. $25 + 67 = 92$ b. $18 + 47 = 55$
c. $38 + 49 = 86$ d. $77 + 17 = 84$
-

26 Obții 100 dacă aduni numerele :

- a. 28 și 72 b. 45 și 45
c. 14 și 86 d. 61 și 39
-

27 Alegeți calculele corecte

- a. $50 - 7 = 37$ b. $80 - 4 = 76$
c. $20 - 5 = 15$ d. $70 - 8 = 52$
-

28 Alegeți calculele corecte

- a. $67 - 9 = 56$ b. $81 - 9 = 73$
c. $44 - 7 = 37$ d. $23 - 8 = 15$

29 Numărul cu 19 mai mic decât 43 este :

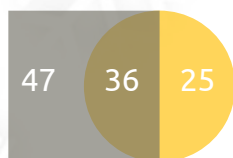
- a. 23 b. 24
c. 34 d. 52

30 Suma a trei numere este 81. Primul număr este 35, al doilea 36, iar cel de-al treilea este :

- a. 20 b. 71
c. 46 d. 10

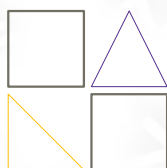
31 Diferența dintre suma numerelor scrise în pătrat și suma numerelor scrise în cerc este :

- a. 22
b. 36
c. 25
d. 23




32 În desenul alăturat sunt :

- a. 5 linii horizontale
b. 3 linii oblice
c. 6 linii horizontale
d. 5 linii verticale



33 Alegeți variantele corecte.



- a. cel mai mare număr este în pătrat
b. numărul din cerc este impar
c. numărul din triunghi este cel mai mic
d. în dreptunghi este un număr par


34 Imaginea de mai jos poate fi :



- a. fața unui cub
b. baza unui cilindru
c. partea laterală a unui cuboid
d. un triunghi

35 Pe o distanță de un metru, bunica plantează 5 flori, la distanță egală una de cealaltă. Ce distanță este între prima și a doua floare ?

- a. 100 cm
b. 20 cm
c. 25 cm
d. 50 cm



36 Un bax de apă are 6 sticle. Fiecare sticlă conține 2 litri de apă. Câți litri de apă sunt în întreg baxul ?

- a. 8 l b. 12 l
c. 10 l d. 18 l

37 Peste 3 ore, ceasul va arăta ora :

- a. 03:00
b. 02:00
c. 15:00
d. 18:00



38 Maria începe luni să citească o carte de 92 de pagini. Ea citește câte 10 pagini în fiecare zi. Va termina de citit cartea :

- a. în 9 zile
b. într-o săptămână și 3 zile
c. într-o zi de miercuri
d. în 14 zile

39 Au 31 de zile lunile :

- a. August
b. Noiembrie
c. Iunie
d. Martie

40 Irina are o bancnotă de 100 lei. Ea cumpără de la librărie o carte de 78 de lei și o ascuțitoare de 8 lei. Poate primi rest :

- a. o bancnotă de 10 lei și una de 5 lei
b. două bancnote de 5 lei și 4 de un leu
c. 24 de bancnote de 1 leu
d. o bancnotă de 10 lei și 4 de 1 leu

Nume și Prenume

Rezultate corecte

_____ / 40

Scanați codul QR pentru a verifica rezultatele

