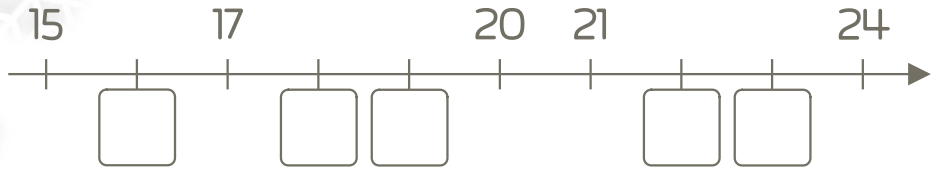


Aranjați în ordine crescătoare numerele ...

23 11 8 16

<input type="text"/>	<input type="text"/>	<input type="text"/>	<input type="text"/>
----------------------	----------------------	----------------------	----------------------

Completați numerele lipsă.




Clasa Pregătitoare

MEM - Recapitulare
Ușor Mediu Dificil Elite

- Numere naturale în intervalul 0 - 31
- Adunări și scăderi în intervalul 0 - 31
- Noțiuni de geometrie



Colorați stelulele pe care apar numere impare.



$4 + 3 = \square$

$9 - 3 = \square$

$3 + \square = 6$

$2 + 6 = \square$

$8 - 4 = \square$

$10 - \square = 6$

Comparați numerele.

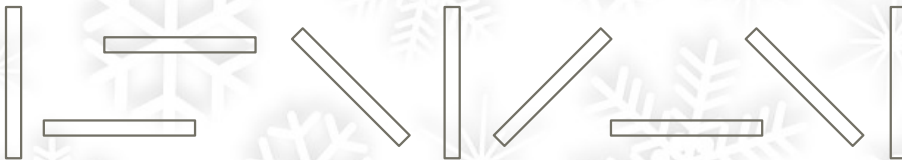
23 17

9 13

Colorați cu galben cercurile, cu roșu pătratele și cu albastru dreptunghiurile.



Colorați cu galben liniile verticale, cu roșu pe cele orizontale și cu albastru pe cele oblice.



Numarul cu 6 mai mare decât 4 este ...

11 12 13 14 15 16 17 18 19 20



$13 + 5 = \square$

$19 - 3 = \square$

Scanați codul QR pentru mai multe fișe de lucru și teste



Aranjați în ordine crescătoare numerele ...

23 11 8 16

8

11

16

23

Completați numerele lipsă.

15

17

20

21

24

16

18

19

22

23

Clasa Pregătitoare

MEM - Recapitulare
Ușor Mediu Dificil Elite

- Numere naturale în intervalul 0 - 31
- Adunări și scăderi în intervalul 0 - 31
- Noțiuni de geometrie



Colorați stelulele pe care apar numere impare.

7

12

9

23

15

28

$4 + 3 = 7$

$9 - 3 = 6$

$3 + 3 = 6$

$2 + 6 = 8$

$8 - 4 = 4$



$10 - 4 = 6$

Comparați numerele.

$23 > 17$

$9 < 13$

Colorați cu galben cercurile, cu roșu pătratele și cu albastru dreptunghiurile.



Colorați cu galben liniile verticale, cu roșu pe cele horizontale și cu albastru pe cele oblice.



Numarul cu 6 mai mare decât 4 este ...

10

11 12 13 14 15 16 17 18 19 20

$13 + 5 = 18$

$19 - 3 = 16$

Scanați codul QR pentru mai multe fișe de lucru și teste



www.vblearninghub.com